

# Racionální čísla

## 1. KAPORNÁ DESETINNÁ ČÍSLA A KAPORNÉ KLOMKY

### KAPORNÁ DESETINNÁ ČÍSLA

PŘEDPOVĚD POČASI

Meteorologové předpověděli roční teploty mezi  $-5^{\circ}\text{C}$  a  $6^{\circ}\text{C}$

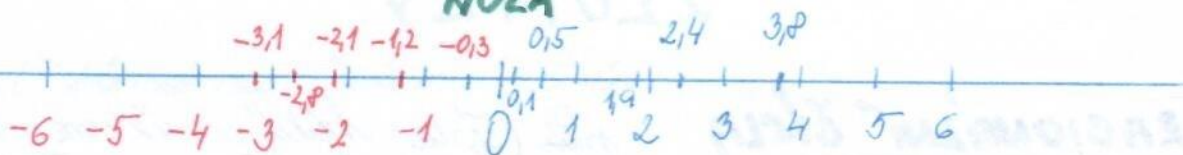
$\Rightarrow$  mezi 22. hodinou ráno a 7. hodinou ráno byly naměřeny teploty:

čas (hod)	22	23	24	1	2	3	4	5	6	7
teplota $^{\circ}\text{C}$	3,8	2,4	0,5	0,1	-0,3	-1,2	-3,1	-2,8	-2,1	1,9

KAPORNÁ DESETINNÁ ČÍSLA

KAPORNÁ DESETINNÁ ČÍSLA

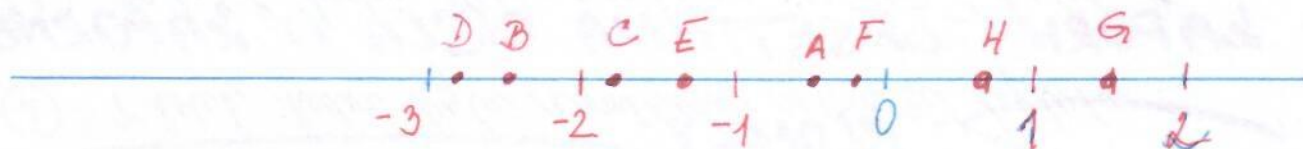
NULA



DESETINNÁ ČÍSLA

- 1) Jakou ráno naměřili teploty mezi  $-5^{\circ}\text{C}$  a  $6^{\circ}\text{C}$
- 2) V kolik hodin byla naměřena nejvyšší teplota?
- 3) V kolik hodin byla naměřena nejnižší teplota?

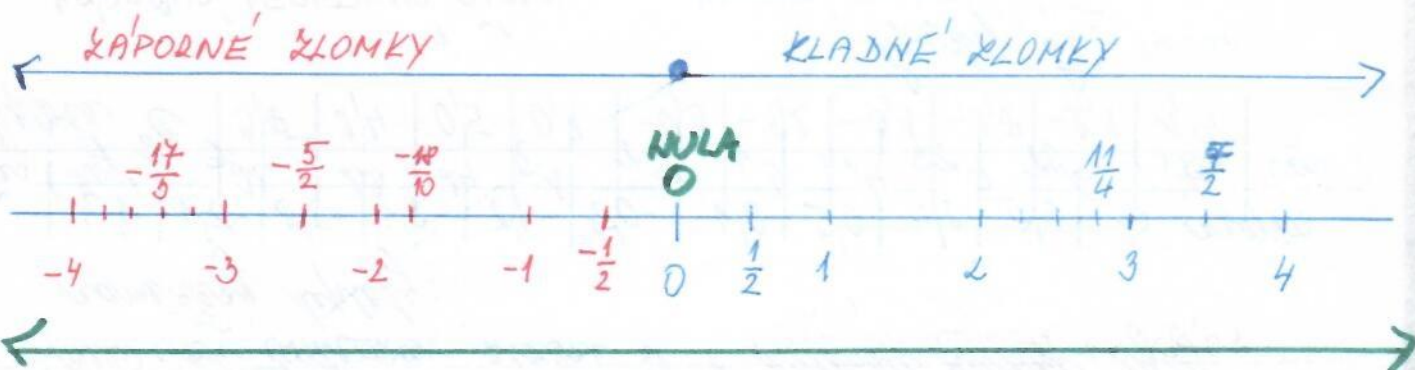
## ZÁPORNÉ ZLOMKY



Pod kterým písmenem je na číselné ose zlomek:

a)  $-\frac{1}{2}$       b)  $-\frac{5}{2}$       c)  $-\frac{19}{10}$       d)  $-\frac{24}{10}$       e)  $-\frac{1}{5}$

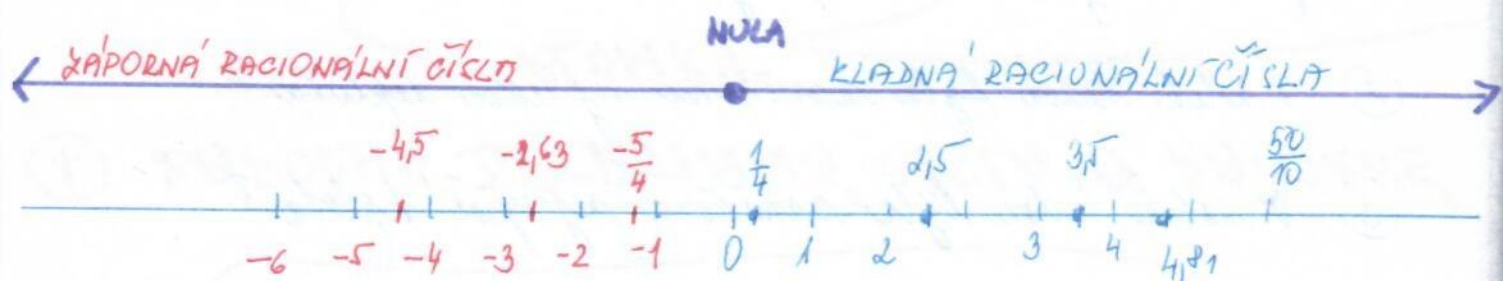
f)  $-\frac{7}{5}$       g)  $\frac{3}{2}$       h)  $\frac{7}{10}$



## ZLOMKY

### RACIONÁLNÍ ČÍSLA

pro čísla, která můžeme zapísat ve tvaru zlomku, je-li číselitel a jmenovatel pro celá čísla, jmenovatel je různý od nuly



## RACIONÁLNÍ ČÍSLA